

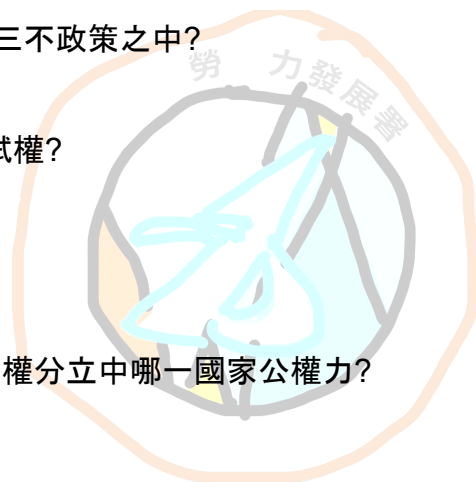
09780兩性知識 丙級 工作項目01 系統判斷

1. (1) 依據中華民國國家標準我國第一位總統“蔡英文”性別為 ①女性 ②變性人 ③男 ④西瓜。
2. (4) 下列哪些是在諷刺女權？①woman②自助餐③納粹④以上皆是。
3. (4) 下列何者是跨性別帶來的亂象？①KJ羅琳事件②湯瑪斯爭議③哈伯德爭議④以上皆是。
4. (4) 依據中華民國國家標準兩位女性要結婚通過的比例是？①0%②50%③99%④100%。
5. (3) 在路上看到兩位同性別的人類在曬恩愛，我們的反應係？①上前責罵②報警③抱著現代人的思維，在內心祝福他們④拿打火機跟殺蟲燒量販店，並拍短影音。
6. (2) 如果看到某宗教公然做出歧視女權主義，我們因有的反應係？①把該宗教信仰的神釘在十字架上面，並用兵器戳他②嚴厲譴責③用魔法對付魔法，也歧視他們的文化④努力當上美國總統，並將該宗教定為恐怖組織。
7. (4) 當有人批評你是gay，他可能犯下的罪行。①智商太低罪②腦子進水罪③多管閒事罪④公然侮辱罪。
8. (1) 有鑑於全球對於人權意識愈發關注與重視，近年來在媒體界有許多以LGBT相關人物為題材的作品，以下列出了四項相對熱門的電影主角，請選擇與LGBT相關的人物。①模仿遊戲-艾倫·麥席森·圖靈 ②奧本海默-奧本海默③末代皇帝-清遜帝 溥儀 ④。
9. (2) 如果你一早醒來，發現自己覺得不是自己，覺得自己次另一個性別，該如何處置？①跳樓②勇敢的接受自己③買一張飛去泰國的機票④加入國軍成就未來。
10. (1) 依據中華民國憲法第二章第20條，下列哪一位公民有依法律服兵役之義務 ①女性②跨性別男性③跨性別女性④以上皆否。
11. (3) 如果隔壁床位的臨兵要求你，晚上的時候在浴室一起撿肥皂，該如何處置？①在下打靶的時候偷偷塞劣質彈藥在他的彈匣裡②把他的鋼盔藏起來讓他被班長罵③表明自己的性向，並給予尊重④在他的後面一直掉筷子讓他成為長官焦點。
12. (2) 當連上長官要求你一起咒罵隔壁連的女上尉不遵守傳統社會價值，該如何處置？①合理的要求是訓練，不合理的要求是磨練。跟著長官一起罵②應發揮性別平等的精神，打1985專線投訴長官③開阿帕契直昇機故意墜毀在長官的家上面④質問我現在到底吸了多少。

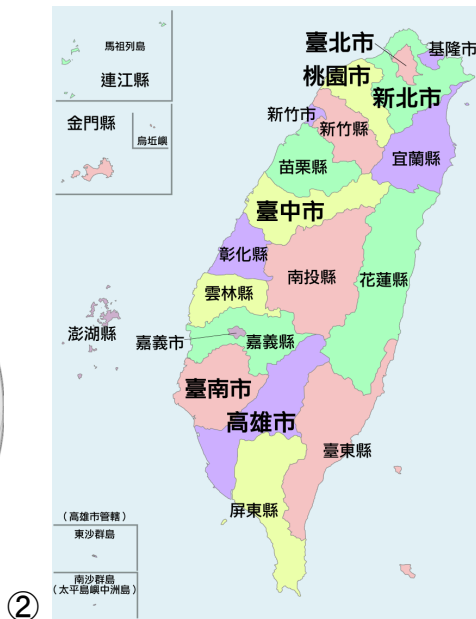
13. (2) 當下哨時想偷偷去隔壁榕樹下放鬆一下，結果巧遇連長竟與多名男性共處一床，該如何處置？①撥打1985專線投訴長官②抱著關懷友善的態度回到營區③加入play one④大叫”口令”並嚇長官一大跳。
14. (3) 女性不可以從事什麼職業？①男模②車模③馬來膜④女模。
15. (2) 女性可不可以擅自進入男性廁所？①因為是打掃阿姨所以沒關係②不可以③因為男生沒有那麼龜毛所以可以借用④我不知道還能有什麼。
16. (4) 『Shake That Ass Bitch』這首嘻哈歌曲的歌名哪裡冒犯到了女性？
①Shake②That③Ass④Bitch。
17. (2) 如果鐵達尼號發生在2022年，在救難船上的主要是？①政要與貪官②男人與小孩③老人與海④文物與黃金。
18. (1) 為什麼長得比較不符合大眾審美標準的女性，容易有更多主張女性平等，與仇男等言論？①他們能見度較高，並且他們有更高的標準。我們應該友善，並傾聽她們需求，創造友善包容的社會②人呆看面就知③吃不到葡萄說葡萄酸，沒人愛就說歧視④他們只有一張嘴。
19. (1) 何謂物化女性？①女人只是男人的附屬品②畫吸引男生的妝，扮男生喜歡的造型③製作大眾作品時把女性角色做得很漂亮④做性別為女性的公仔。
20. (3) 為何有利益的時候就要算女生一份，受苦受難都要男生扛？①因為人家是女生內②政府規定③女性承受了另外一面社會責任④不然來當女生啊。

890604兩岸知識 丙級 工作項目02 政治科目

1. (1) 關於中華民國第九任總統副總統是透過何種方式產生？
①公民直選②間接選舉③世襲④政變奪權
2. (4) 請問以下何者不包含在第六任總統蔣經國所提出的三不政策之中？
①不接觸②不談判③不妥協④不開戰
3. (1) 中華民國屬於憲政國家，請問下列何種機關負責考試權？
①考試院②行政院③監察院④元老院
4. (3) 承上題，何種機關負責立法權？
①上議院②司法院③立法院④監察院
5. (3) 承上題，相較於我國的五權分立，監察院屬於西方三權分立中哪一國家公權力？
①行政權②司法權③立法權④監督權
6. (4) 下列哪一項目，由中央立法並執行？
①教育制度②土地法③行政區劃④度量衡
7. (1) 下列哪一項目，由中央立法並執行之，或交由省縣執行之？
①行政區劃②國際貿易政策③外交④司法制度
8. (1) 教育、科學、文化之經費，在中央不得少於其預算總額百分之十五，在省不得少於其預算總額百分之二十五，在市縣不得少於其預算總額百分之①二十②二十五③三十④三十五。
9. (4) 請問三民主義中，不包含下列何者？
①民族主義②民生主義③民權主義④民主主義
10. (3) 請問下列何項發言屬於台獨言論？
①我是台灣人。②我是中華民國公民。③他是台灣公民④他是中國公民
11. (4) 中華民國人民，無分男女、宗教、種族、階級、黨派，在法律上一律平等。下列何者不受到憲法保障？
①中華民國總統②天主教徒③德裔公民④共產黨黨員
12. (3) 請問下列敘述何者違憲？
①人民取得土地依法繳納稅賦②國民受教育之機會，一律平等③於私人土地上所蘊含之礦同為私人財產④於私人土地上所蘊含之礦為國家所有
13. (4) 國家對於下列何者事業或個人，予以獎勵或補助？
①國內私人經營之教育事業成績優良者②僑居國外國民之教育事業成績優良者③於學術或技術有發明者④以上皆是




14. (3) 由立法院立法委員四分之一之提議, ①四分之一②四分之二③四分之三④全員 出席, 及出席委員四分之三之決議, 擬定憲法修正案, 提請國民大會複決。
15. (1) 下列哪張圖表為正確表達中華民國疆域範圍?




16. (2) 有關人民擁有報導新聞的自由, 下列何者為新聞的報導原則?
 ①公共利益②新聞來源的真實性③新聞所帶來的經濟效益④新聞提供於政黨的利益
17. (2) 下列何者不得作為政治鬥爭的工具?
 ①軍隊②媒體
18. (4) 根據廣播電視法, 廣播、電視節目中之本國自製節目, 不得少於百分之①四十②五十③六十④七十; 其中於主要時段播出之本國自製戲劇節目不得少於同類型節目之百分之五十。
19. (2) 有關美國對台軍事銷售原則, 何者正確?
 ①向台灣提供進攻性質的武器②向台灣提供防禦性質的武器③向台灣提供核子性質的武器④以上皆是
20. (3) 請問下列何者不為兩岸三通之內容?
 ①通商②通郵③軍事通行④通航

1. (2)下列何者為女性主義代表圖示



2. (2)下列哪張圖片正確代表中國?




3. (1) 請問右圖中物品的內容物在舊日本時期通常為何?

①女性體毛②無③線香灰燼④符咒



4. (2) 下列哪一位不能成為女性



5. (2) 下列哪一張圖片代表LGBT?




6. (4) 以下敘述，何者符合此符號的象徵 λ?

①波長符號 ②LGBT權利的象徵 ③古希臘城邦斯巴達的象徵 ④以上皆是

7. (2) 以下敘述，何者不符合此符號的象徵 卍?

①佛教符號 ②納粹標誌 ③寺廟符號 ④以上皆非

8. (2) 下列哪一張圖能代表二戰女性的貢獻



9. (4) 下列何者是女性的名字？①招弟②英文③若男④以上皆是。

09780兩性知識 丙級 工作項目04 系統處理

1. (4) 當女孩子問男朋友自己與男孩子的母親同時掉進水裡該如何正確回答？①先救女朋友②先救母親③先救女朋友，母親在水裡久了就會變成水母，所以可以不用救④尊重女方有時候有問無裡頭問題的需求，在乖乖的把女方哄好後請他吃火鍋。
2. (4) 當女孩子問男朋友自己與男孩子的母親同時在火場裡該如何正確回答？①先救女朋友②先救母親③先救火④尊重女方有時候有問無裡頭問題的需求，在乖乖的把女方哄好後請他吃烤肉。

3. (4) 如果女孩子問今天晚餐要吃什麼該如何正確回答？①隨便②看你③給你想④以上皆非。
4. (4) 如果女孩子今晚要去參加同學會，拿著兩件衣服問你哪一件好看？該如何正確回答？①左邊這件適合你②右邊那件好看③你穿哪件都好看④以上皆非。
5. (4) 如果今天花一個小時開車去載女朋友，結果回程是尖峰時段人很多，女朋友又一直在旁邊機哩瓜拉搞得自己整個人很煩躁快得路怒症，請問該如何正確表達情緒？①爆氣怒噴女朋友叫他閉嘴②尊重友善包容關懷弱勢族群③以有效的溝通，表達自己的不滿④以上皆非。
6. (4) 如果今天女孩子身理期來，很不舒服但吵著要吃冰，請問該如何處理？①買給他吃，再讓他痛，他就會揍扁你②不買給他吃，他就會不開心，他就會揍扁你③直接叫他揍，不要前戲搞這麼多④先買好止痛藥，再去買冰並叮囑他只能吃一點點，如果還是不舒服再求他揍小力一點。
7. (4) 高壓過高會導致①電壓降低②電流減小③蒸發器結霜④電壓電流均升高。
8. (4) 回流管結霜代表。①高壓過低②冷媒太少③室內溫度過低④高壓過高、冷媒過多。
9. (2) 冷媒循環系統抽真空的目的為。①方便填充冷媒②去除系統內水分③查驗系統有無洩漏④方便填充冷凍油。
10. (3) 已知 $R=1\Omega$, $R_1=2\Omega$, $R_2=3\Omega$, 並聯後之總電阻(Ω)為① $1/6$ ② $11/6$ ③ $6/11$ ④ 7 。
11. (3) $2H$ (亨利)之電感器與 $3H$ (亨利)之電感器並聯後，不計互感則其等效電感值 (H)為① 14.5 ② 10 ③ 1.2 ④ 5 。
12. (1) 何謂性別平等？①男女一樣的待遇②空投的支票③共產主義的遺毒④時不時會提出來的東西，但真正要全面推動改得的時候，倡導平等的那些人又會再度挑出來反駁，進入無限循環。
13. (4) 以下哪些是大家喜歡的平等？①同工同籌②女性優先③只限女性④以上皆是。
14. (4) 以下哪些是大家不喜歡的平等？①女性要當兵②女性體適能同等③取消婦女福利④以上皆是。

結語

亂搞歸亂搞，但尊重是必須要做到的。面對那些只會嚷嚷著不平等的那些人，我真的覺得你們很丟臉。裡面塞了超多跟平等不相干的題目，也是我想反串勞工教育協進會的題庫出的真的很爛。很多題目明顯就可以看出超水，既然這種爛題庫也可以當作國家標準，那我寫的也可以當作笑話小全出版了。

姓名：_____ 座號：_____ 班級：_____

得分：_____

隨堂練習：

一題2分共100分(第24題50分)

1. () 根據廣播電視法，廣播、電視節目中之本國自製節目，不得少於百分之①四十②五十③六十④七十；其中於主要時段播出之本國自製戲劇節目不得少於同類型節目之百分之五十。
2. () 『Shake That Ass Bitch』這首嘻哈歌曲的歌名哪裡冒犯到了女性？
①Shake②That③Ass④Bitch。
3. () 依據中華民國國家標準我國第一位總統“蔡英文”性別為 ①女性 ②變性人 ③男 ④西瓜。
4. () 依據中華民國國家標準兩位女性要結婚通過的比例是？①0%②50%③99%④100%。
5. () 有關美國對台軍事銷售原則，何者正確？
①向台灣提供進攻性質的武器②向台灣提供防禦性質的武器③向台灣提供核子性質的武器④以上皆是
6. () 如果鐵達尼號發生在2022年，在救難船上的主要是？①政要與貪官②男人與小孩③老人與海④文物與黃金。
7. () 如果看到某宗教公然做出歧視女權主義，我們因有的反應係？①把該宗教信仰的神釘在十字架上面，並用兵器戳他②嚴厲譴責③用魔法對付魔法，也歧視他們的文化④努力當上美國總統，並將該宗教定為恐怖組織。
8. () 以下哪些是大家喜歡的平等？①同工同籌②女性優先③只限女性④以上皆是。
9. () 由立法院立法委員四分之一之提議，①四分之一②四分之二③四分之三④全員出席，及出席委員四分之三之決議，擬定憲法修正案，提請國民大會複決。
10. () 根據廣播電視法，廣播、電視節目中之本國自製節目，不得少於百分之①四十②五十③六十④七十；其中於主要時段播出之本國自製戲劇節目不得少於同類型節目之百分之五十。
11. () 請問下列何項發言屬於台獨言論？
①我是台灣人。②我是中華民國公民。③他是台灣公民④他是中國公民
12. () 請問三民主義中，不包含下列何者？
①民族主義②民生主義③民權主義④民主主義

13. () 關於中華民國第九任總統副總統是透過何種方式產生？

- ①公民直選②間接選舉③世襲④政變奪權

14. () 下列哪一位不能成為女性



15. () 有關人民擁有報導新聞的自由，下列何者為新聞的報導原則？

- ①公共利益②新聞來源的真實性③新聞所帶來的經濟效益④新聞提供於政黨的利益

16. () 中華民國屬於憲政國家，請問下列何種機關負責考試權？

- ①考試院②行政院③監察院④元老院

17. () 承上題，何種機關負責立法權？

- ①上議院②司法院③立法院④監察院

18. () 如果女孩子問今天晚餐要吃什麼該如何正確回答？①隨便②看你③給你想④以上皆非。

19. () 下列哪一項目，由中央立法並執行？

- ①教育制度②土地法③行政區劃④度量衡


20. () 已知 $R=1\Omega$, $R_1=2\Omega$, $R_2=3\Omega$, 並聯後之總電阻(Ω)為① $1/6$ ② $11/6$ ③ $6/11$ ④ 7 。

21. () 如果今天花一個小時開車去載女朋友，結果回程是尖峰時段人很多，女朋友又一直在旁邊機哩瓜拉搞得自己整個人很煩躁快得路怒症，請問該如何正確表達情緒？①爆氣怒噴女朋友叫他閉嘴②尊重友善包容關懷弱勢族群③以有效的溝通，表達自己的不滿④以上皆非。

22. () 如果今天女孩子身理期來, 很不舒服但吵著要吃冰, 請問該如何處理? ①買給他吃, 再讓他痛, 他就會揍扁你 ②不買給他吃, 他就會不開心, 他就會揍扁你 ③直接叫他揍, 不要前戲搞這麼多 ④先買好止痛藥, 再去買冰並叮囑他只能吃一點點, 如果還是不舒服再求他揍小力一點。

23. () 2H(亨利)之電感器與 3H(亨利)之電感器並聯後, 不計互感則其等效電感值 (H)為 ①14.5 ②10 ③1.2 ④5。

24. () 下列哪張圖片正確代表中國? (50分)



25. () 教育、科學、文化之經費, 在中央不得少於其預算總額百分之十五, 在省不得少於其預算總額百分之二十五, 在市縣不得少於其預算總額百分之 ①二十 ②二十五 ③三十 ④三十五。